

Séance 1. Le littoral breton, un espace dynamique ?

Etude de cas : Binic dans les Côtes d'Armor.




Lecture de photographies





Décris les activités de la ville de Binic d'après les deux photographies.

Tu peux t'aider de la carte topographique à disposition (*diapositive 8*).



Diapo 8



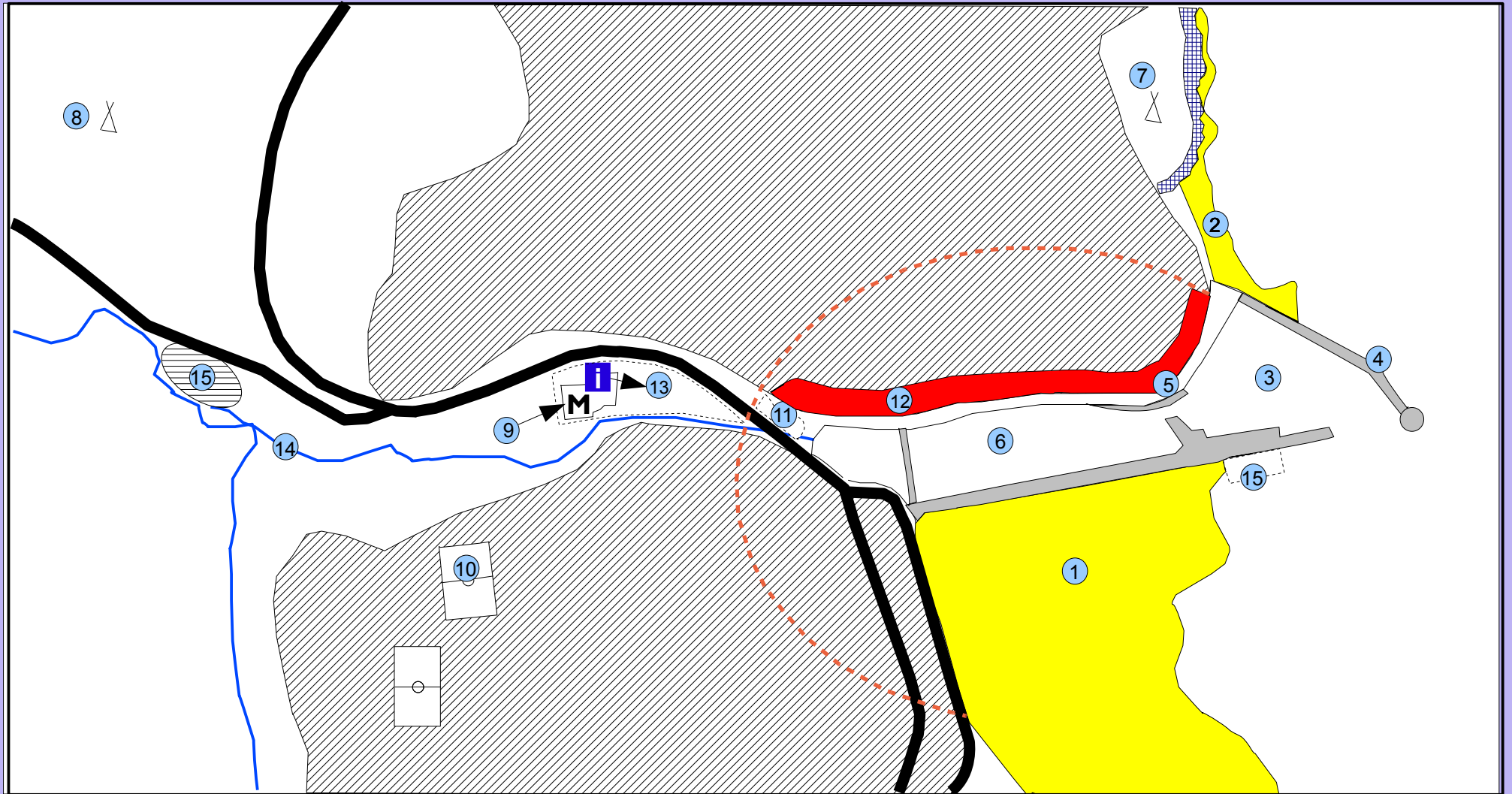
Binic



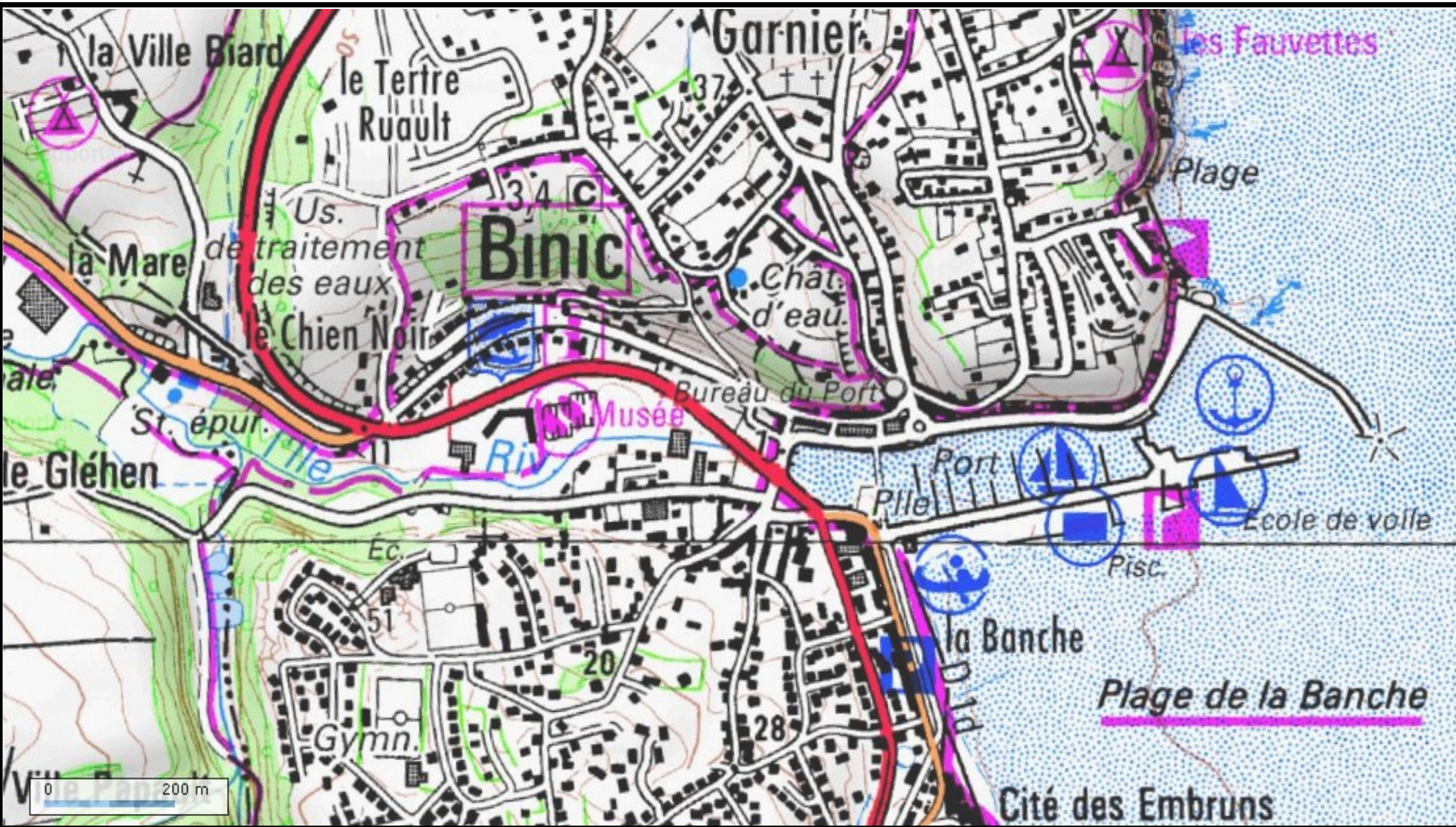
Source : site Géoportail

Réaliser la légende
d'un croquis géographique

Croquis géographique de la ville de Binic en Côtes d'Armor



Consigne : identifie les monuments et les espaces de la ville de Binic en réalisant une légende








Source : site Géoportail

Légende du croquis géographique de la ville de Binic

I- Les aménagements touristiques et de loisirs

- | | |
|---------------------------------|-------------------------------|
| ① Plage de la Banche | ⑧ Camping « Le Panoramique » |
| ② Plage de l'Avant-Port | ⑨ Musée |
| ③ Avant-Port (port d'échouage)* | ⑩ Complexes sportifs |
| ④ Dignes | ⑪ Parking |
| ⑤ Capitainerie | ⑫ Commerces et restaurants |
| ⑥ Port de plaisance | ⑬ Office de tourisme de Binic |
| ⑦ Camping « les Fauvettes » | |

II – Les espaces de la ville de Binic.

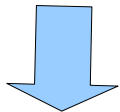
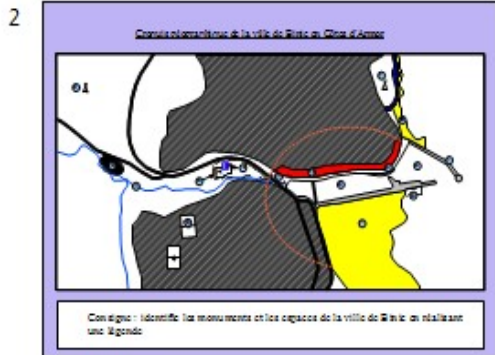
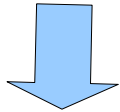
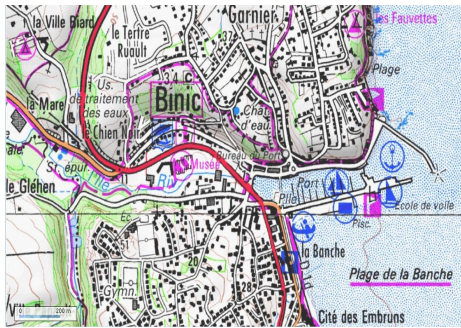
- | | |
|---|---|
|  | Les plages |
|  | Les espaces urbains (maisons, résidences...) |
|  | Les commerces et restaurants de la ville de Binic |
|  | Les aménagements portuaires |
|  | L'espace central de la ville |

Les aménagements de l'eau

- | | |
|---|----------------------------------|
| ⑭ | L'Ic |
| ⑮ | Stations d'épuration de la ville |

TITRE : Binic, une station balnéaire

(port d'échouage)* : lieu où un bateau peut s'échouer sans danger. Dans un port d'échouage la hauteur d'eau n'est pas suffisante à marée basse pour que les navires puissent continuer à flotter.



LEGENDE DU CROQUIS

Localisation de Binic



Côtes d'Armor

Le logo des côtes d'Armor :

un département entre terre et mer...

Production de récit



4



Diapo 4

5



Diapo 5

Production de récit : prouve que Binic est une station balnéaire.

7

Croquis géographiques de la ville de Binic en Cités d'Armor

Consigne : Identifie les monuments et les espaces de la ville de Binic en réalisant une légende

Diapo 7

8

Source : site Géoportail

Diapo 8

9

LES ENDES DU CROQUIS

LES ENDES DE LA VILLE DE BINIC

- Plage de Grande
- Plage de la Vierge
- Jardin d'été (partiellement)
- Stade
- Chapelle
- Paroisse
- Commune de la commune
- Cité de la commune de Binic
- Camping - La Pennequin
- Stade
- Complexes sportifs
- Paroisse
- Commune de la commune
- Cité de la commune de Binic

LES ENDES DE LA VILLE DE BINIC

- Les plages
- Les espaces verts (massifs, réserves...)
- Les monuments et bâtiments de la ville de Binic
- Les aménagements urbains
- L'organisation de la ville
- Les aménagements de la ville
- La ville
- Stations de passage de la ville

TITRE : Binic, une station balnéaire

(pour l'élève)

Diapo 9

Approfondissement



Source : site Géoportail

Le Port de Plaisance dit « le port »



Le port d'échouage dit « le Port »,

Source : site Géoportail