

La civilisation égyptienne

Etude du site internet du Musée canadien des civilisations
(http://www.civilisations.ca/civil/egypt/egypt_f.html)

Répondez aux questions en regardant les pages indiquées. Pour revenir au sommaire, cliquez sur civilisation (bas de page). En cas d'erreur, pensez à utiliser l'icône Précédente du logiciel (flèche en haut à gauche dans la barre d'outils)



I Géographie (Vallée du Nil)

1. Que fait le Nil une fois par an ? Vers quelle saison ?

2. Pourquoi est-ce bénéfique ?

3. A quoi d'autre servait le Nil ?

II Vie quotidienne (Nourriture)

1. Quel est le métier de la majorité des Egyptiens ?

2. Quel dispositif est utilisé pour irriguer les terres ? Dessine-le.









3. Quelles plantes sont cultivées ?

4. Quels animaux sont élevés ?

III Gouvernement

1. (Pharaon) Comment se considèrent les pharaons ?

2. (Symbole royaux)







			
			
			
			

3. (Bureaucratie) Qui administre le royaume, à part le roi ?

Le _____ et les _____

III Religion

4. (Mythes) (Famille divine)

	Est devenu le seigneur des morts : _____		Fils d'Isis et d'Osiris : _____
	A momifié son époux : _____		A assassiné son frère : _____
	Fils de Nephtys et d'Osiris : _____		Le dieu solaire : _____

5. (La vie après la mort) Selon les Egyptiens, que devient l'âme après la mort ? Que doit-on faire du corps ?

IV Architecture

6. (Tombe) Quelles sont les trois formes de tombes utilisées successivement ?

D'abord les _____ puis les _____, enfin les tombes de la V _____

7. (Pyramides) Remplir ce schéma de la Grande Pyramide de Khéops à Gizeh

Indices

- 1 . le couloir ascendant
- 2 . « la chambre de la Reine » (la chambre du milieu)
- 3 . la chambre souterraine
- 4 . les « puits d'aération » (ouvertures étroites pour assurer l'aération)
- 5 . le couloir descendant
- 6 . la grande galerie (passage à plafond haut menant à la chambre du roi)
- 7 . l'entrée (au-dessus de la base de la pyramide)
- 8 . le corridor horizontal
- 9 . la chambre funéraire du roi (la chambre supérieure surmontée par des chambres de déc harge pour empêcher le plafond la chambre de s'effondrer)

