



Mon espace proche : quelles relations avec le reste du monde ?

Port Jérôme : un littoral industrialisé

Nom : Prénom :

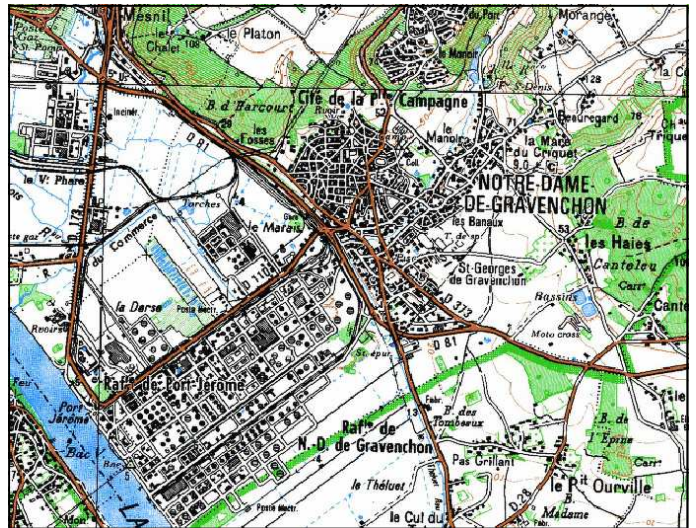
1—Port-Jérôme : c'est où ?

Port-Jérôme et Notre Dame de Gravenchon

« Formée par la fusion, en 1826, de Notre-Dame et de Saint-Georges-de-Gravenchon, cette commune qui ne comptait que 700 habitants à la fin du 19e, a connu un développement rapide à partir du début des années 1930 avec l'arrivée des raffineries à Port-Jérôme sur la zone du Mesnil. Le nom de Port-Jérôme, vient d'un projet de port envisagé par Napoléon III à cet endroit en 1861 quelques mois après le décès de son oncle, Jérôme, ex-roi de Westphalie. »

(Extrait du site : <http://lpeyot.free.fr/normandiegw/76/communes/communesN.htm>)

En fait « Port Jérôme » est un lieu-dit et pas une commune. Plus généralement, ce nom désigne la zone industrielle qui s'étend sur l'espace gagné sur les marais après l'endiguement de la Seine.



A partir des informations du texte, coloriez en rouge sur la carte, l'espace qu'on appelle

2 - J'utilise un SIG (Système d'information géographique) pour comprendre : Géoportail de l'IGN (Institut Géographique National)

Ordinateur allumé et moteur de recherche affiché.

- 1—Dans la fenêtre de recherche du moteur de recherche, tapez « geoportail »
- 2—sur la page d'accueil (FIG 1 de la fiche « prise en main de Géoportail ») tapez le nom de la commune dans la fenêtre de recherche.
- 3— A l'écran, affiché la carte IGN à l'échelle numérique 1:32000, puis utilisez l'outil « déplacer la carte » pour la centrer sur la raffinerie de Port-Jérôme.
- 4—Dans la fenêtre des données sélectionnez la carte Cassini. C'est une carte du XVIIIe s. Puis jouez avec le curseur d'opacité.

A) L'actuel lieu appelé « Port-Jérôme » existe-t-il au XVIIIe ?

.....

B) Qu'observe-t-on à cet endroit au XVIIIe s ?

.....

C) Rédigez une ou plusieurs phrases pour expliquer les changements dans ce lieu au cours de l'histoire.



Port Jérôme : un littoral industrialisé

3 -Quelles activités à Port-Jérôme ?

A partir des informations du texte et de la lecture de la photographie, identifiez les différentes parties du paysage de Port-Jérôme, et complétez le croquis et sa légende.

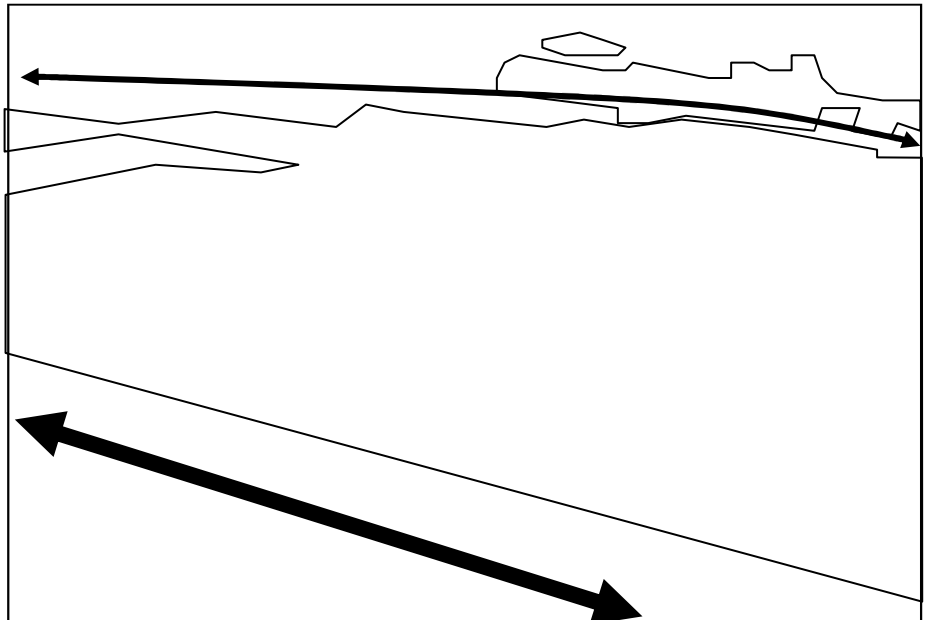
Deux raffineries de pétrole se sont installées sur l'estuaire de la Seine (...) La première (à Gonfreville L'Orcher) s'acheva à la fin de l'été 1933. Dès cette année furent traitées 8000 tonnes de pétrole brut, amenées (...) à l'usine par une *pipe-line*. (...) Mais la création la plus importante est celle de l'usine de Port-Jérôme, au bord de la Seine, dans la commune de Notre Dame de Gravenchon. (...)

D'après R. MUSSET, Annales de Géographie—1935



Photographie M. Chevret pour le conseil régional de Haute Normandie, Images de France. CRDP Haute Normandie 1995.

colle ici



Légende

Quelle activité occupe surtout l'espace de Port-Jérôme ?
.....
.....
.....
.....

<input type="checkbox"/>
<input type="checkbox"/>
<input type="checkbox"/>



Port Jérôme : un littoral industrialisé

Nom : Prénom :

4 - Pourquoi l'industrie pétrolière a-t-elle choisi le site de Port-Jérôme ?

Pourquoi l'industrie pétrolière Port-Jérôme ?

« Plusieurs facteurs(1) plaident alors en faveur de ce choix.

Tout d'abord la proximité du port du Havre qui dispose d'installations modernes capables de recevoir les grands pétroliers à citernes de l'époque (...)

S'ajoute la proximité de la Seine : Port Jérôme qui se situe vers le fond de son estuaire est bien relié en amont aux grands centres de consommation de la région parisienne et même dans une grande partie du pays.

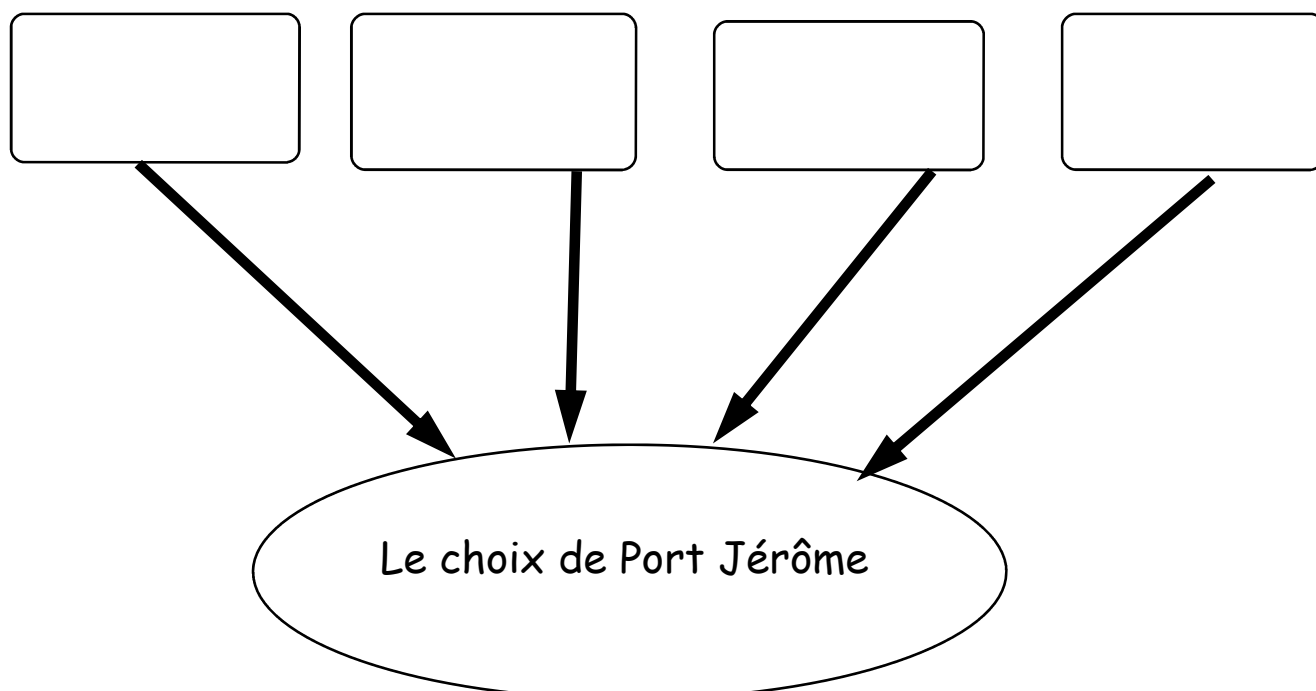
Port Jérôme offre aussi un espace de prairies à la fois très vaste et très bon marché .

Enfin, la région dispose d'une main d'œuvre rapidement disponible (ruraux ou ouvriers laissés pour compte de la crise de l'industrie textile qui sévit alors dans la vallée du commerce). (...)

D'après « Notre Dame de Gravenchon Deux mille ans d'histoire » sous la direction de J.M. Cahagne.

1—raisons

Lisez le document ci-dessus et à partir des informations complétez le schéma simple qui explique pourquoi les industries ont choisi ce lieu pour s'implanter dans les années 1930.



Prise en main de géoportail

Fig. 1 : La page d'accueil

Lien vers la France européenne

La fenêtre de recherche

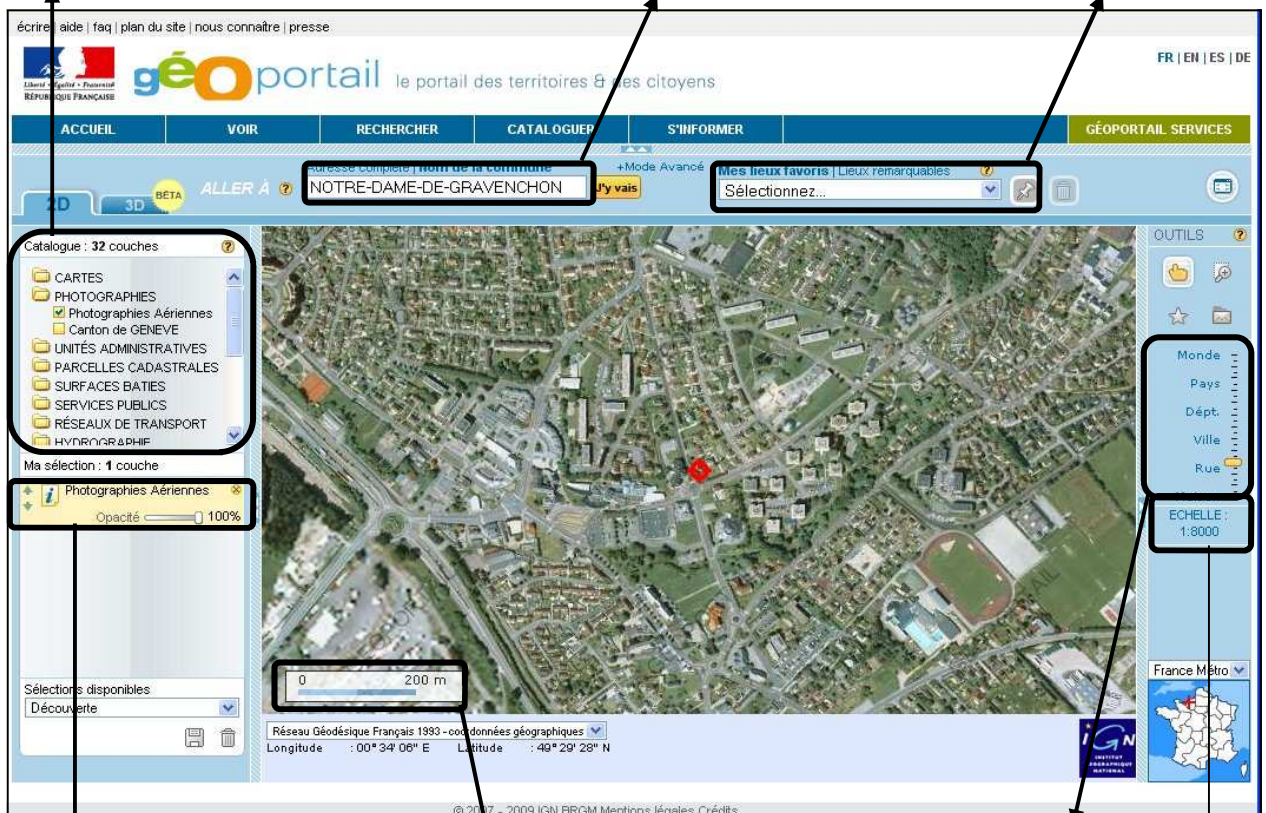


Fig. 2 : La page 2

Fenêtre des données

La fenêtre de recherche

Les lieux favoris



Données sélectionnées et Curseur d'opacité

Echelle graphique

Curseur de changement

Echelle numérique

colle ici